

# Santiniho život a dílo

## Santiniho známé stavby

Jan Blažej Santini-Aichel (1677–1723) byl český barokní architekt slavný díky svému specifickému stylu nazývanému barokní gotika. Mezi jeho originální realizace patří klášterní komplexy, paláce, chrámy, ale i malé kostely a kaple.

### 1. Poznáte Santiniho stavby? Přiřaďte názvy staveb k obrázkům:

- A. poutní kostel sv. Jana Nepomuckého na Zelené hoře
- B. poutní Chrám Jména Panny Marie v Křtinách
- C. kostel Panny Marie Vítězné na Bílé Hoře v Praze
- D. kaple svaté Anny v Panenských Břežanech
- E. Kolovratský (Thunovský) palác v Praze
- F. Svaté schody u Kostela Panny Marie a svatého Karla Velikého v Praze



1



2



3



4



5



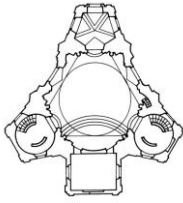
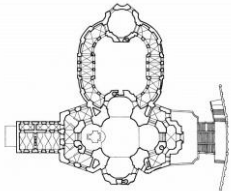
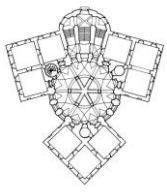
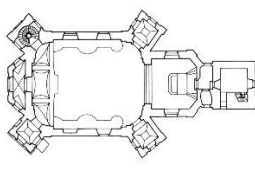


6

## Santiniho půdorysy

Mnoho Santiniho staveb, včetně těch malých, je protknuto symboly. Jedním z charakteristických rysů jeho stylu jsou půdorysy, které mají skrytý symbolický význam. Například pět hvězd jako symbol Jana Nepomuckého nebo pěti ran Kristových.

### 2. Spojte typ půdorysu s obrázkem půdorysu a s názvem stavby:

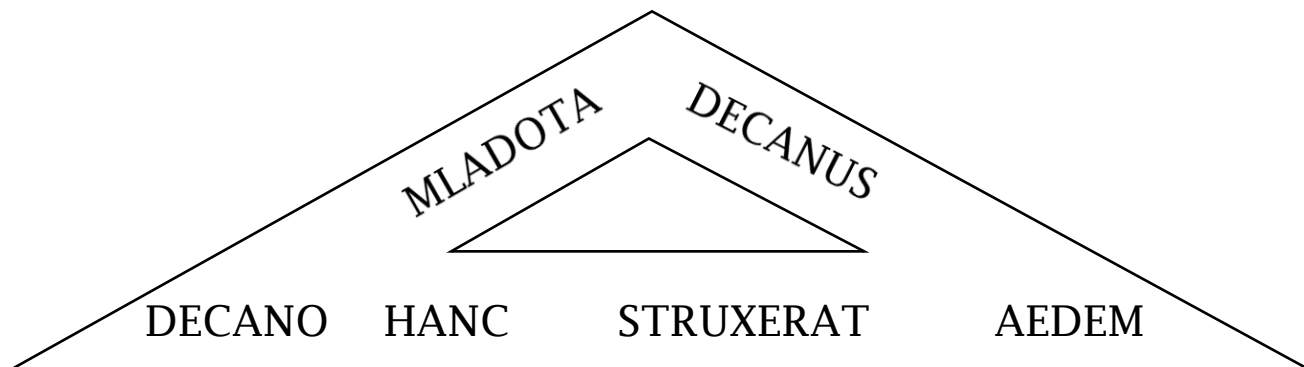
- |                               |  |
|-------------------------------|--|
| A. půdorys pěticípé hvězdy    | D. kostel Navštívení Panny Marie v Obyčtově  |
| B. půdorys paprscité centrály | E. kostel sv. Václava ve Zvoli               |
| C. trojúhelníkový půdorys     | F. poutní Chrám Jména Panny Marie v Křtinách |

<p>1</p> 	<p>.....</p>	<p>kaple svaté Anny v Panenských Břežanech</p>
<p>2</p> 	<p>půdorys řeckého kříže vetknutý do soustředných kružnic</p>	<p>.....</p>
<p>3</p> 	<p>.....</p>	<p>zámek Karlova Koruna v Chlumci nad Cidlinou</p>
<p>4</p> 	<p>půdorys želvy</p>	<p>.....</p>
<p>5</p> 	<p>.....</p>	<p>poutní kostel sv. Jana Nepomuckého na Zelené hoře</p>
<p>6</p> 	<p>půdorys řeckého kříže</p>	<p>.....</p>

## Santini a geometrie

Santiniho měl velké znalosti geometrie, ale také byl fascinován symbolikou čísel. Zajímal se o křesťanskou mystiku a židovskou kabalou a číselné symboly využíval i při projektování svých staveb. Na fasádě Mladotova paláce v Praze umístil čísla, která odpovídají nápisu nad vchodem.

3. Rozluštěte na základě číselné abecedy kód, který skrývá nápis nad vchodem. Když čísla u jednotlivých slov sečtete, dostanete rok dokončení fasády:



Jakou číselnou hodnotu mají jednotlivá písmena?

A a	1	P p	60
B b	2	Q q	70
C c	3	R r	80
D d	4	S s	90
E e	5	T t	100
F f	6	U u	200
G g	7	X x	300
H h	8	Y y	400
I i	9	Z z	500
K k	10	J j	600
L l	20	V v	700
M m	30	(H i	800)
N n	40	W w	900
O o	50		

M	L	A	D	O	T	A	<input type="text"/>		
<input type="text"/>	<input type="text"/>	<input type="text"/>	<input type="text"/>	<input type="text"/>	<input type="text"/>	<input type="text"/>	<input type="text"/>		
D	E	C	A	N	U	S	<input type="text"/>		
<input type="text"/>	<input type="text"/>	<input type="text"/>	<input type="text"/>	<input type="text"/>	<input type="text"/>	<input type="text"/>	<input type="text"/>		
D	E	C	A	N	O	<input type="text"/>			
<input type="text"/>	<input type="text"/>	<input type="text"/>	<input type="text"/>	<input type="text"/>	<input type="text"/>	<input type="text"/>			
H	A	N	C	<input type="text"/>	<input type="text"/>	<input type="text"/>			
<input type="text"/>	<input type="text"/>	<input type="text"/>	<input type="text"/>	<input type="text"/>	<input type="text"/>	<input type="text"/>			
S	T	R	U	X	E	R	A	T	<input type="text"/>
<input type="text"/>	<input type="text"/>	<input type="text"/>	<input type="text"/>	<input type="text"/>	<input type="text"/>	<input type="text"/>	<input type="text"/>	<input type="text"/>	<input type="text"/>
A	E	D	E	M	<input type="text"/>	<input type="text"/>			
<input type="text"/>	<input type="text"/>	<input type="text"/>	<input type="text"/>	<input type="text"/>	<input type="text"/>	<input type="text"/>			

Jaký je celkový součet?

## Santiniho život a dílo

Zopakujte si základní faktografické údaje ze života geniálního architekta Jana Blažeje Santiniho, typické prvky jeho originálního stylu a charakteristické rysy jeho menších staveb. Některé z nich byly zmíněny v předchozích cvičeních.

### 4. Udělejte si kvíz. Co víte o Santiniho životě a díle? Vyberte jednu správnou odpověď:

#### 1. Jaké bylo druhé příjmení Santiniho?

- a. Giovanni
- b. Aichel
- c. Kaňka
- d. Fischer

#### 2. Jak se nazývá Santiniho architektonický styl?

- a. dynamické baroko
- b. selské baroko
- c. barokní gotika
- d. klasicismus

#### 3. V jakém století Santini tvořil?

- a. v 15. století
- b. v 16. století
- c. v 17. století
- d. v 18. století

#### 4. Santini se nejvíce inspiroval u barokního architekta

- a. K. I. Dietzenhofera
- b. J. L. von Hildebrandta
- c. Francesca Borrominiho
- d. Lorenzo Berniniho

#### 5. Co nepatří k Santinimu typickému stylu?

- a. konkávní stěny
- b. klasicistní prvky
- c. gotické prvky
- d. práce se světlem

#### 6. Co symbolizuje číslo pět na Zelené hoře?

- a. symbol Jana Nepomuckého
- b. symbol Panny Marie
- c. symbol Nejsvětější Trojice
- d. symbol kosmického řádu

#### 7. Který originální prvek od Santiniho má kaple v Panenských Břežanech?

- a. půdorys ve tvaru hvězdy
- b. šnekovité schodiště
- c. paprscitá centrála
- d. paprscitá klenba

#### 8. Kterou z těchto staveb Santini navrhnul podle římského vzoru?

- a. kostel na Zelené hoře
- b. kaple v Panenských Břežanech
- c. kostel Jména panny Marie v Křtinách
- d. Svaté schody na Karlově v Praze

